

ДРТ–2019 г.

Сусветная гісторыя (навейшы час)

Варыянт змяшчае 50 заданняў і складаецца з часткі А (38 заданняў) і часткі В (12 заданняў). На выкананне ўсіх заданняў адводзіцца 90 мінут. Заданні рэкамендуецца выконваць па парадку. Калі якое-небудзь з іх выкліча ў Вас цяжкасць, перайдзіце да наступнага. Пасля выканання ўсіх заданняў вярніцеся да прапушчаных. Будзьце ўважлівыя! Жадаем поспеху!

Частка А

У кожным заданні часткі А **толькі адзін** з прапанаваных адказаў з'яўляецца правільным. У бланку адказаў пад нумарам задання пастаўце метку (×) у клетачцы, якая адпавядае нумару выбранага Вамі адказу.

A1. Адным з лідараў Рабочага сацыялістычнага інтэрнацыянала ў 1920-я гг. быў:

- 1) Э. Тэльман; 2) У. Ленін; 3) К. Лібкнехт; 4) К. Каўцкі.

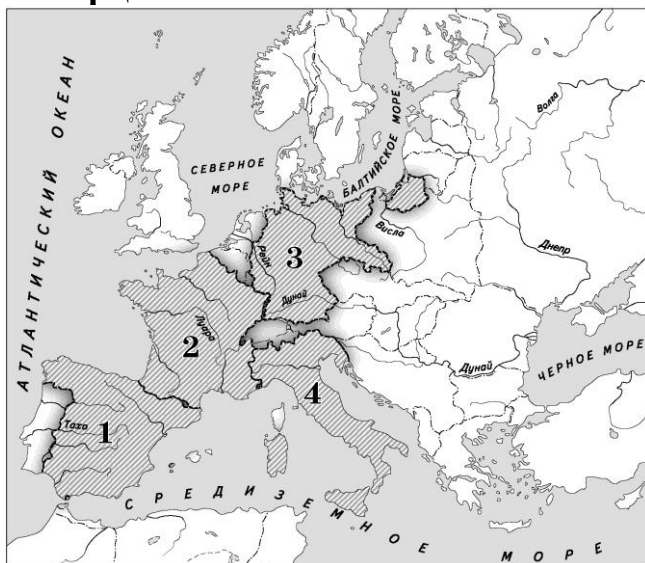
A2. Парыжская мірная канферэнцыя, якая замацавала вынікі Першай сусветнай вайны, завяршыла работу ў:

- 1) 1919 г.; 2) 1920 г.; 3) 1921 г.; 4) 1922 г.

A3. Адзначце правільнае сцверджанне адносна сусветнага эканамічнага крызісу (1929–1933).

- 1) Сацыял-рэфармісцкі варыянт выхаду з сусветнага крызісу прадугледжваў правядзенне буйных сацыяльных рэформ.
2) У гады крызісу значна скарацілася дзяржаўнае ўмяшанне ў эканоміку.
3) Адной з прычын крызісу было ўстанаўленне фашысцкай дыктатуры ў Германіі.
4) Ва ўмовах крызісу ўрады шэрага заходніх краін падтрымлівалі толькі дробныя прадпрыемствы.

A4. Тэрыторыя дзяржавы, у якой у 1936–1939 гг. праходзіла грамадзянская вайна, абазначана на карце лічбай:



- 1) 1;
2) 2;
3) 3;
4) 4.

A5. Палітыку «супакойвання» ў адносінах да Германіі ў другой палове 1930-х гг. праводзілі ўрады:

- 1) Японіі і ЗША; 3) Францыі і Вялікабрытаніі;
2) Італіі і Іспаніі; 4) ЗША і Аўстрыі.

А6. У літаратуры міжваеннага перыяду Э. Хемінгуэй і Э. Рэмарк былі прадстаўнікамі так званага(-ай):

- 1) «новага пакалення»; 3) «новай хвалі»;
2) «згубленага пакалення»; 4) «грамадства спажывання».

А7. Выберыце варыянт адказу, у якім правільна суаднесены прозвішчы гістарычных дзеячаў і іх характарыстыкі.

А) Б. Кун	1) кіраўнік урада Народнага фронту ў Францыі
Б) В. Вільсан	2) першы прэзідэнт Веймарскай рэспублікі
В) Л. Блюм	3) першы прэзідэнт Чэхаславацкай Рэспублікі
Г) Т. Масарык	4) прэзідэнт ЗША, аўтар праграмы «14 пунктаў»
	5) кіраўнік Венгерскай савецкай рэспублікі

- 1) АЗБ5В2Г1; 2) А4Б5В1Г3; 3) А5Б4В1Г3; 4) А5Б3В4Г1.

А8. Часовы ўрад Расіі летам – восенню 1917 г. узначальваў:

- 1) Л.Г. Карнілаў; 2) А.Ф. Керанскі; 3) А.В. Калчак; 4) Л.Д. Троцкі.

А9. Грамадзянская вайна ў Расіі скончылася:

- 1) узяццем Уладзівастока Чырвонай Арміяй; 3) узяццем Варшавы Чырвонай Арміяй;
2) разгромам Калчака; 4) увядзеннем «чырвонага тэрору».

А10. Устанавіце адпаведнасць.

Эканамічная палітыка	Характэрная рыса
1) палітыка «ваеннага камунізму»	а) укараненне грашовага абароту б) нацыяналізацыя прамысловасці
2) новая эканамічная палітыка	в) ліквідацыя прыватнай уласнасці г) прыцягненне замежнага капіталу д) дазвол невялікіх прыватных прадпрыемстваў е) увядзенне харчовай развёрсткі

- 1) 1авд; 2бге; 2) 1ае; 2бвгд; 3) 1бвде; 2аг; 4) 1бве; 2агд.

А11. Вялікі ўклад у вывучэнне Паўночнага марскога шляху ў міжваенны перыяд унеслі савецкія вучоныя:

- 1) А.Ф. Іофэ і Ф.А. Цандэр; 3) О.Ю. Шміт і І.Д. Папанін;
2) І.П. Паўлаў і М.І. Вавілаў; 4) А.М. Тупалеў і С.П. Каралёў.

А12. Адзначце падзею, якая адбылася першай сярод пералічаных:

- 1) утварэнне СССР;
2) прыняцце Дзяржаўнага плана па электрыфікацыі Расіі;
3) падпісанне савецка-японскага пакта аб ненападзенні;
4) стварэнне таварыства «Далоў непісьменнасць».

А13. Адзначце правільнае сцверджанне.

- 1) Савецкае партыйнае кіраўніцтва пры правядзенні суцэльнай калектывізацыі імкнулася да ўмацавання сваёй улады шляхам знішчэння рынкавых адносін на вёсцы.
2) І.В. Сталін прапанаваў план уваходжання савецкіх рэспублік у новы саюз на добраахвотных і раўнапраўных пачатках.
3) Новай эканамічнай палітыкай савецкай дзяржавы прадугледжвалася замена харчпадатка харчразвёрсткай.
4) Асноўнай мэтай савецкай знешняй палітыкі ў 1930-я гг. была барацьба за перагляд умоў Брэсцкага мірнага дагавора.

A14. Адлюстраваны на здымку савецкі дзяржаўны дзеяч – гэта:



- 1) наркам замежных спраў, які падпісаў з Германіяй пакт аб ненападзенні;
- 2) кіраўнік Рэўваенсавета рэспублікі;
- 3) камандзір Чырвонай Арміі, які правёў паспяховыя аперацыі супраць войскаў Калчака і Урангеля;
- 4) удзельнік баёў з японскімі войскамі ў раёне возера Хасан.

A15. У 1926 г. у Японіі пачалося праўленне імператара:

- 1) Пу I;
- 2) Рэза-хана;
- 3) Танака;
- 4) Хірахіта.

A16. План вайны Германіі з СССР, падпісаны Гітлерам, атрымаў кодавую назву:

- 1) «Баграціён»;
- 2) «Гельб»;
- 3) «Барбароса»;
- 4) «Оверлорд».

A17. Неўвядальнай славай у баях за Маскву восенню 1941 г. адзначаны падзвіг 28 байцоў са стралковай дывізіі генерала:

- 1) В.В. Талаліхіна;
- 2) І.В. Панфілава;
- 3) І.С. Конева;
- 4) Я.Ф. Паўлава.

A18. Пачаткам карэннага пералому ў ходзе Другой сусветнай і Вялікай Айчыннай войнаў стала:

- 1) бітва пад Масквой;
- 2) Сталінградская бітва;
- 3) танкавая бітва пад Прохараўкай;
- 4) адкрыццё другога фронту.

A19. Выберыце варыянт адказу, у якім правільна суаднесены характарыстыкі ўдзельнікаў антыфашысцкай барацьбы і іх прозвішчы.

А) камандзір кавалерыйскай групы, якая здзейсніла гераічны рэйд па тылах праціўніка ў жніўні – верасні 1941 г.	1) В.В. Порык
Б) камісар падпольнай камсамольска-маладзёжнай арганізацыі «Маладая гвардыя», якая дзейнічала ў акупіраваным Краснадоне	2) А.В. Кашавы
В) лейтэнант, які за подзвігі ў барацьбе супраць фашыстаў на тэрыторыі Францыі быў пасмяротна ўдастоены звання Героя Савецкага Саюза	3) П.К. Панамарэнка
Г) кіраўнік Цэнтральнага штаба партызанскага руху, створанага ў 1942 г.	4) Л.М. Даватар
	5) Ф.А. Палятаеў

- 1) А4Б2В1Г3;
- 2) А4Б1В5Г2;
- 3) А5Б2В3Г4;
- 4) А2Б5В4Г3.

A20. Да асноўных рашэнняў Крымскай канферэнцыі адносяцца:

а) стварэнне Міжнароднага ваеннага трыбунала для правядзення суда над нацысцкімі ваеннымі злачынцамі	1) а, в
б) вызначэнне ўсходняй граніцы Польшчы	2) б, в
в) акупацыя ЗША, СССР і Вялікабрытаніяй тэрыторыі Германіі	3) б, д
г) уключэнне часткі Усходняй Прусіі з горадам Кёнігсбергам у склад СССР	4) г, д
д) канчатковае ўрэгуляванне пытання аб Польшчы	

A21. Устанавіце паслядоўнасць падзей у гісторыі Другой сусветнай і Вялікай Айчыннай войнаў.

А) сустрэча амерыканскіх і савецкіх войскаў на Эльбе	1) АБГВ
Б) прарыў блокады Ленінграда	2) ВГАБ
В) генеральнае наступленне нямецкіх войскаў пад Масквой	3) БАВГ
Г) паражэнне японскага флоту каля вострава Лейтэ (Філіпіны)	4) ВБГА

A22. Пачаткам «халоднай вайны», на думку гісторыкаў, быў(-ла; -ло):

- 1) Карыбскі крызіс;
- 2) «пражская вясна»;
- 3) прамова У. Чэрчыля ў Фултане;
- 4) узвядзенне Берлінскай сцяны.

A23. У гады прэзідэнцтва Д. Эйзенхаўэра ў ЗША:

- 1) пачалося ажыццяўленне «плана Маршала»;
- 2) была завершана вайна ў В'етнаме;
- 3) была прынята дактрына «масіраванай адплаты» ў адносінах СССР і яго саюзнікаў;
- 4) абвастрылася ўнутрыпалітычная сітуацыя ў сувязі з «уотэргейцкай справай».

A24. Перадвыбарная праграма лейбарысцкай партыі на парламенцкіх выбарах 1997 г. у Вялікабрытаніі прадугледжвала:

- 1) стварэнне грамадства, заснаванага на грамадскай уласнасці;
- 2) дэмакратызацыю дзяржаўнага ладу;
- 3) увядзенне прамога кіравання Лондана ў Ольстэры;
- 4) прыватызацыю авіякасмічнай і суднабудаўнічай галін прамысловасці.

A25. Адным з вынікаў уступлення ФРГ у НАТА было:

- 1) памяншэнне колькасці ўзброеных сіл;
- 2) умацаванне міжнароднага становішча краіны;
- 3) развіццё супрацоўніцтва ФРГ з сацыялістычнымі дзяржавамі;
- 4) набыццё новых каланіяльных уладанняў.

A26. Урад дзяржавы, тэрыторыя якой заштрыхавана на карце, ратыфікаваў Маастрыхцкі дагавор пры прэзідэнце:



- 1) Ш. дэ Голю;
- 2) Ж. Шыраку;
- 3) Ф. Аландзе;
- 4) Ф. Мітэране.

A27. Устанавіце паслядоўнасць падзей у гісторыі краін Цэнтральнай і Паўднёва-Усходняй Еўропы.

А) дэмакратычныя («аксамітныя») рэвалюцыі	1) ГБВА
Б) утварэнне прафсаюза «Салідарнасць» у Польшчы	2) ГБАВ
В) падпісанне Дэйтанскага пагаднення	3) БАВГ
Г) роспуск Арганізацыі Варшаўскага дагавора (АВД)	4) БАГВ

A28. Дапамогу па «плане Маршала» з 1948 г. атрымлівалі ўсе краіны Паўночнай Еўропы, акрамя:

- 1) Нарвегіі;
- 2) Фінляндыі;
- 3) Швецыі;
- 4) Даніі.

A29. Адным з вынікаў «белай рэвалюцыі» ў пачатку 1960-х гг. у Іране быў(-ло; -ла):

- 1) прыход да ўлады ваеннай хунты;
- 2) устанавленне дыктатуры мусульманскага духавенства;
- 3) адмова ад мадэрнізацыі эканомікі;
- 4) правядзенне аграрнай рэформы.

A30. Для эканамічных рэформаў Дэн Сяапін у Кітаі былі характэрны:

а) пераўтварэнне кааператываў на вёсцы ў народныя камуны	1) а, в
б) права сялян свабодна распараджацца вынікамі сваёй працы пасля выплаты падатку дзяржаве	2) а, г
в) правядзенне суцэльнага кааперавання сельскай гаспадаркі	3) б, г
г) заахвочванне дзяржавай развіцця малога і сярэдняга бізнесу	4) в, г

A31. Адзначце падзею, якая звязана з адлюстраваным на здымку палітычным і дзяржаўным дзеячам:



- 1) прыняцце курса на пабудову «кангрэсіскага сацыялізму»;
- 2) звяржэнне рэжыму Батысты;
- 3) нацыяналізацыя Суэцкага канала;
- 4) прыняцце плана «трох чырвоных сцягоў».

A32. Па ініцыятыве М.С. Хрушчова ў СССР пачаўся:

- 1) пераход да новага палітычнага мыслення;
- 2) працэс рэабілітацыі рэпрэсіраваных;
- 3) «парад суверэнітэтаў»;
- 4) пераход да новай эканамічнай палітыкі.

A33. Мэтай эканамічнай рэформы, якая праводзілася ў СССР з 1965 г., быў(-ла):

- 1) пераход да палітыкі «шокавай тэрапіі»;
- 2) замена адміністрацыйных метадаў кіравання эканамічнымі метадамі;
- 3) прыватызацыя значнай часткі дзяржаўнай уласнасці;
- 4) лібералізацыя знешнеэканамічнай дзейнасці.

A34. Адным з паказчыкаў крызісу перабудовы ў СССР была(-о):

- 1) адмова ад новага палітычнага мыслення;
- 2) рэзкае пагаршэнне адносін з краінамі Захаду;
- 3) заснаванне 3'езда народных дэпутатаў СССР;
- 4) зніжэнне аўтарытэту Камуністычнай партыі.

A35. Для характарыстыкі сацыяльна-эканамічнага развіцця Расійскай Федэрацыі правільным з’яўляецца сцверджанне:

- 1) Да важнейшых мер па рэфармаванні эканомікі ў 1992–1993 гг. адносяцца ўвядзенне свабодных цэн і лібералізацыя гандлю.
- 2) Канстытуцыя Расійскай Федэрацыі значна пашырала паўнамоцтвы Дзяржаўнай думы.
- 3) З мэтай пераадолення спаду эканомікі ў Расіі ў сярэдзіне 1990-х гг. была забаронена індывідуальная працоўная дзейнасць.
- 4) Пасля крызісу 1998 г. у Расіі была ўстаноўлена прагрэсіўная сістэма падаткаабкладання для фізічных асоб.

A36. Адзначце падзею, якая адбылася апошняй сярод пералічаных:

- 1) запуск першага штучнага спадарожніка Зямлі;
- 2) стварэнне Мытнага саюза;
- 3) падпісанне Дагавора АСУ-1;
- 4) прыняцце Праграмы пабудовы камунізму ў СССР.

A37. Савецкі дзяржаўны дзеяч, пры якім паміж СССР і ЗША быў падпісаны Дагавор аб абмежаванні сістэм супрацьракетнай абароны (Дагавор ПРА), – гэта:

- | | |
|-------------------|------------------|
| 1) М.С. Гарбачоў; | 3) М.С. Хрушчоў; |
| 2) Ю.У. Андропоў; | 4) Л.І. Брэжнеў. |

A38. Адзначце падзеі, якія адбыліся ў сферы міжнародных адносін у 1950–1960-я гг.

А) другі Берлінскі крызіс	1) АВГ
Б) ваенная аперацыя супраць Ірака «Бура ў пустыні»	2) АБД
В) «танкінскі інцыдэнт»	3) БВД
Г) стварэнне Арганізацыі Варшаўскага дагавора (АВД)	4) АБГ
Д) прызнанне Арганізацыяй вызвалення Палесціны (АВП) дзяржавы Ізраіль	

Частка В

Адказы, атрыманыя пры выкананні заданняў часткі В, запішыце ў бланку адказаў. Кожную літару, лічбу пішыце ў асобнай клетачцы (пачынаючы з першай) па ўзорах, указаных у бланку.

В1. Пагадненне аб перадачы Германіі часткі тэрыторыі дзяржавы, заштрыхаванай на карце, было падпісана ў 1938 г. на канферэнцыі ў горадзе ____ (назва).

Адказ запішыце словам у той форме, у якой яно павінна быць пададзена ў сказе.



В2. Устанавіце паслядоўнасць прыходу да ўлады дзяржаўных дзеячаў.

- 1) Б. Мусаліні;
- 2) Ф. Франка;
- 3) Р. Макдональд;
- 4) Т. Масарык;
- 5) М. Хорці.

Адказ запішыце лічбамі. Напрыклад: 42135.

В3. Адзначце тры характэрныя рысы палітычнай сістэмы СССР у 1930-я гг.

1) Дзяржаўная падтрымка ўсіх формаў уласнасці; 2) пазаканамічны прымус да працы; 3) поўнае падпарадкаванне працаўніка-вытворцы дзяржаве; 4) узмацненне ролі мясцовых органаў улады; 5) панаванне аднапартыйнай сістэмы; 6) устанаўленне культуры асобы Троцкага.

Адказ запішыце лічбамі (парадак запісу лічбаў не мае значэння). Напрыклад: 135.

В4. Устанавіце адпаведнасць паміж датамі і падзеямі ў гісторыі краін Азіі і Афрыкі ў міжваенны перыяд.

А) 1919 г.	1) «рух 4 мая» за нацыянальную незалежнасць Кітая
Б) 1923 г.	2) прыняцце «мемарандума Танака» ў Японіі
В) 1927 г.	3) «саляны паход» М. Гандзі і яго прыхільнікаў у Індыі
Г) 1930 г.	4) прадастаўленне незалежнасці Егіпту
	5) абвясчэнне Турцыі рэспублікай

Адказ запішыце ў выглядзе спалучэння літар і лічбаў, захоўваючы алфавітную паслядоўнасць літар. Памятайце, што некаторыя даныя правага слупка могуць не выкарыстоўвацца. Напрыклад: АЗБ5В1Г4.

В5. Выберыце тры падзеі, якія адбыліся падчас заключнага перыяду ў ходзе Другой сусветнай і Вялікай Айчыннай войнаў.

1) Стварэнне Арганізацыі Аб'яднаных Нацый; 2) вызваленне гарадоў Арол і Белград; 3) бітва за Днепр; 4) Патсдамская канферэнцыя; 5) падпісанне Італіяй перамір'я з англа-амерыканскім камандаваннем; 6) баі за востраў Акінава.

Адказ запішыце лічбамі (парадак запісу лічбаў не мае значэння). Напрыклад: 135.

В6. Сістэма нераўнапраўных эканамічных і палітычных адносін, якая навязвалася суверэнным краінам Азіі, Афрыкі і Лацінскай Амерыкі, накіраваная на захаванне эксплуатацыі і залежнасці гэтых краін, атрымала назву ____.





Адказ запішыце словам у форме назойнага склону.

В7. Адзначце прозвішчы трох савецкіх вучоных.

- 1) А.Д. Сахараў;
- 2) У.М. Вайновіч;
- 3) І.В. Курчатаў;
- 4) А.А. Таркоўскі;
- 5) М.У. Келдыш;
- 6) А.Т. Твардоўскі.

Адказ запішыце лічбамі (парадак запісу лічбаў не мае значэння). Напрыклад: 126.

В8. Устанавіце адпаведнасць.

 А)	 В)	1) XIX Усесаюзная партыйная канферэнцыя 2) XXII з'езд КПСС 3) стварэнне Мытнага саюза 4) прыняцце Канстытуцыі Расійскай Федэрацыі 5) прыняцце Канстытуцыі «развітога сацыялізму»
 Б)	 Г)	

Адказ запішыце ў выглядзе спалучэння літар і лічбаў, захоўваючы алфавітную паслядоўнасць літар. Памятайце, што некаторыя даныя правага слупка могуць не выкарыстоўвацца. Напрыклад: А1Б5В3Г2.

В9. Устанавіце адпаведнасць.

А) прэм'ер-міністр Вялікабрытаніі, пры якім Індыі была прадастаўлена незалежнасць Б) канцлер ФРГ, лідар СДПГ, які праводзіў «новую ўсходнюю палітыку» В) прэзідэнт Францыі, лідар Сацыялістычнай партыі, пры якім у склад урада ўваходзілі камуністы Г) прэзідэнт ЗША, урад якога распрацаваў праграму Стратэгічнай абароннай ініцыятывы (САІ)	1) Р. Рэйган 2) А. Меркель 3) К. Этлі 4) В. Брант 5) Ф. Мітэран
---	---

Адказ запішыце ў выглядзе спалучэння літар і лічбаў, захоўваючы алфавітную паслядоўнасць літар. Памятайце, што некаторыя даныя правага слупка могуць не выкарыстоўвацца. Напрыклад: А1Б5В3Г2.

В10. Сусветная гандлёвая арганізацыя (СГА) была створана ў ___ годзе.

Адказ запішыце ў выглядзе чатырохзначнага ліку. Напрыклад: 1917.

В11. Устанавіце паслядоўнасць падзей у ЗША і краінах Еўропы ў другой палове XX – пачатку XXI ст.

- 1) Тэрарыстычная атака ісламістаў на ЗША;
- 2) палітычнае супрацьстаянне ў Венгрыі («Будапешцкая восень»);
- 3) падпісанне Маастрыхцкага дагавора аб стварэнні Еўрапейскага Саюза (ЕС);
- 4) устанаўленне палітычнага рэжыму Чацвёртай рэспублікі ў Францыі;
- 5) прызнанне парламентам Вялікабрытаніі распаду Брытанскай імперыі.

Адказ запішыце лічбамі. Напрыклад: 35142.

В12. Устанавіце паслядоўнасць падзей у сферы міжнародных адносін у другой палове XX – пачатку XXI ст.

- 1) Карыбскі крызіс;
- 2) заканчэнне ірана-іракскай вайны;
- 3) пачатак Карэйскай вайны;
- 4) звяржэнне рэжыму талібаў у Афганістане;
- 5) заснаванне Руху недалучэння.

Адказ запішыце лічбамі. Напрыклад: 42135.