

ДРТ–2019 г.
Геаграфія

Варыянт змяшчае 50 заданняў і складаецца з часткі А (38 заданняў) і часткі В (12 заданняў). На выкананне ўсіх заданняў адводзіцца 90 мінут. Заданні рэкамендуецца выконваць па парадку. Калі якое-небудзь з іх выкліча ў Вас цяжкасць, перайдзіце да наступнага. Пасля выканання ўсіх заданняў вярніцеся да прапушчаных. Будзьце ўважлівыя! Жадаем поспеху!

Частка А

У кожным заданні часткі А толькі адзін з прапанаваных адказаў з'яўляецца правільным. У бланку адказаў пад нумарам задання пастаўце метку (×) у клетачцы, якая адпавядае нумару выбранага Вамі адказу.

А1. Азімут на поўнач роўны:

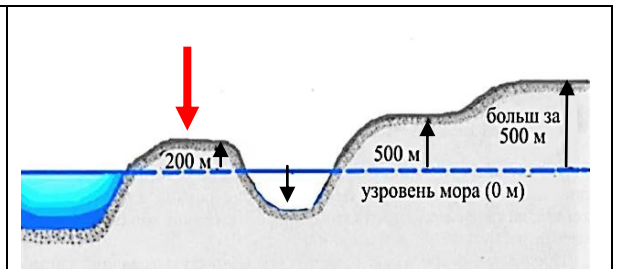
- 1) 0° (360°); 2) 90°; 3) 180°; 4) 270°.

А2. Да дробнамаштабных адносіцца карта маштаба:

- 1) 1 : 10 000 000; 2) 1 : 500 000; 3) 1 : 25 000; 4) 1 : 10 000.

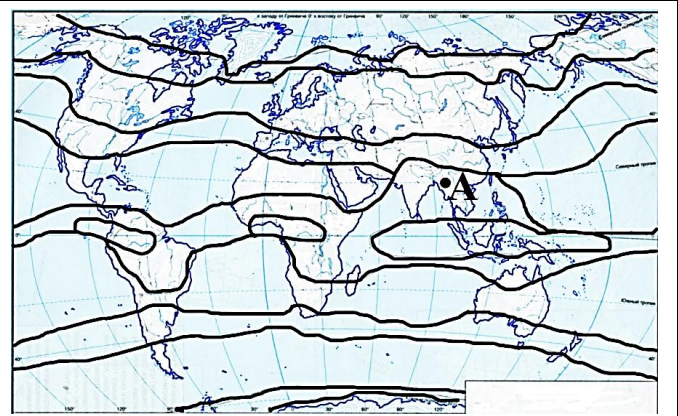
А3. Форма рэльефу, паказаная на рысунку стрэлкай, – гэта:

- 1) упадзіна 3) узвышша
2) нізіна 4) пласкагор'е



А4. Кліматычны пояс, у межах якога на карце размешчана кропка з літарай:

- 1) экватарыяльны
2) трапічны
3) субэкватарыяльны
4) субтрапічны



А5. Укажыце шыроты, для якіх характэрна найбольш высокая салёнасць акіянічных вод:

- 1) экватарыяльныя; 3) умераныя;
2) трапічныя; 4) палярныя.

А6. Сукупнасць усіх форм эксплуатацыі прыродна-рэсурснага патэнцыялу для задавальнення матэрыяльных і культурных патрэб чалавека і мер па захаванні гэтага патэнцыялу – гэта:

- 1) біёта; 3) прыродакарыстанне;
2) геапалітыка; 4) прыродная разнастайнасць.

A7. У тройку вядучых глабальных гарадоў уваходзіць горад:

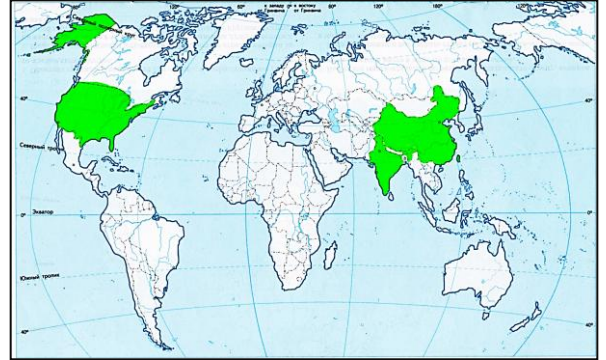
- 1) Каір;
- 2) Лондан;
- 3) Каракас;
- 4) Хельсінкі.

A8. У састаў інтэграцыйнага аб'яднання НАФТА ўваходзіць:

- 1) Бразілія;
- 2) Расія;
- 3) Аргенціна;
- 4) Мексіка.

A9. Агульная рыса, якая аб'ядноўвае выдзеленыя на карце дзяржавы:

- 1) унітарная форма палітыка-тэрытарыяльнага ўпарадкавання;
- 2) манархічная форма праўлення;
- 3) з'яўляюцца галоўнымі краінамі-вытворцамі электраэнергіі;
- 4) з'яўляюцца сусветнымі лідарамі па пагалоўі свіней.



A10. У характарыстыцы сусветнай гаспадаркі

ПРАВІЛЬНЫМ з'яўляецца сцверджанне:

- 1) першасны сектар сусветнай гаспадаркі ўключае ў сябе адукацыю і навуковыя даследаванні;
- 2) прыродныя ўмовы і забяспечанасць краін прыроднымі рэсурсамі не ўплываюць на геаграфічны падзел працы;
- 3) найбольшая колькасць буйных транснацыянальных кампаній размешчана ў ЗША;
- 4) у сучаснай галіновай структуры міжнароднага гандлю пераважае гандаль паслугамі.

A11. У характарыстыцы сельскай гаспадаркі свету ПРАВІЛЬНЫМ з'яўляецца сцверджанне:

- 1) на землі сельскагаспадарчага прызначэння прыходзіцца большая частка сусветнага зямельнага фонду;
- 2) Афрыка выдзяляецца сярод рэгіёнаў найбольшай доляй у структуры валавога збору рысу;
- 3) вядучым сусветным вытворцам сельскагаспадарчай прадукцыі з'яўляецца Расія;
- 4) па пагалоўі авечак сярод краін лідзіруе Кітай.

A12. У характарыстыцы прамысловасці свету ПРАВІЛЬНЫМ з'яўляецца сцверджанне:

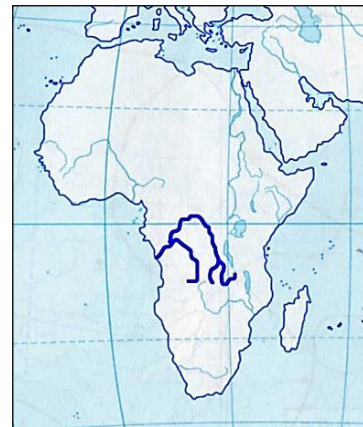
- 1) у рэгіянальнай структуры здабычы прыроднага газу найбольшая доля належыць Афрыканскаму рэгіёну;
- 2) размяшчэнне прадпрыемстваў чорнай металургіі арыентуецца выключна на спалучэнне радовішчаў вугалю, які каксуецца, і жалезнай руды;
- 3) станкабудаванне характарызуецца высокай канцэнтрацыяй складаных вытворчасцей у развітых краінах;
- 4) у тройку вядучых вытворцаў фармацэўтычнай прадукцыі ўваходзіць Францыя.

A13. У характарыстыцы сусветнай сферы паслуг ПРАВІЛЬНЫМ з'яўляецца сцверджанне:

- 1) у структуры грузаабароту вядучае месца належыць чыгуначнаму транспарту;
- 2) самай працяглай сістэмай аўтастрад валодае Германія;
- 3) буйнейшы па грузаабароце марскі порт – Шанхай;
- 4) па колькасці турысцкіх прыбыццяў лідзіруе Амерыканскі рэгіён.

A14. На карце Афрыкі выдзелена рака:

- 1) Ніл;
- 2) Конга;
- 3) Нігер;
- 4) Замбезі.

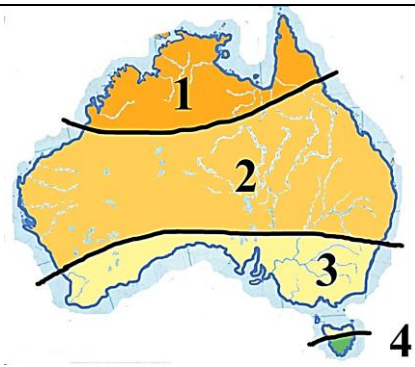
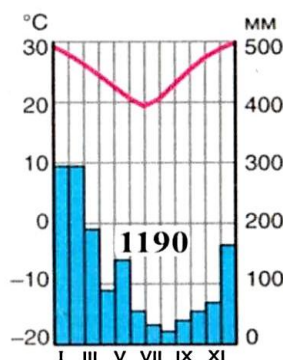


A15. У характарыстыцы сацыяльна-эканамічнага развіцця ПАР ПРАВІЛЬНЫМ з'яўляецца сцверджанне:

- 1) у структуры насельніцтва найбольшая доля выхадцаў з Еўропы;
- 2) сталіца з'яўляецца найбуйнейшым горадам краіны;
- 3) галіной спецыялізацыі з'яўляецца металургія;
- 4) галоўная збожжавая культура – рыс.

A16. Прапанаваная кліматаграма адпавядае кліматычнаму поясу Аўстраліі, пазначанаму на карце лічбай:

- 1) 1;
- 2) 2;
- 3) 3;
- 4) 4.



A17. У характарыстыцы сацыяльна-эканамічнага развіцця Аўстралійскага Саюза ПАМЫЛКОВЫМ з'яўляецца сцверджанне:

- 1) сярэдняя працягласць жыцця насельніцтва – адна з самых высокіх у свеце;
- 2) у структуры ВУП сельская гаспадарка ўступае прамысловасці і сферы паслуг;
- 3) краіна займае першае месца ў свеце па вытворчасці чыгуну;
- 4) на арашальных землях развіта вінаградарства, вырошчваецца бавоўнік, тытунь.

A18. У характарыстыцы прыроды Антарктыды ПРАВІЛЬНЫМ з'яўляецца сцверджанне:

- 1) мацярык быў адкрыты Ф. Магеланам;
- 2) Антарктычная платформа ўваходзіла ў састаў старажытнага мацерыка Лаўразія;
- 3) сцёкавыя вятры дзьмуць ад цэнтра мацерыка да перыферыі;
- 4) жывуць пінгвіны, белыя мядзведзі, палярныя ваўкі.

A19. У прыроднай зоне Паўднёвай Амерыкі, выдзеленай на карце колерам, распаўсюджаны глебы:


- 1) шэразёмы;
- 2) бурія лясныя;
- 3) падзолістыя;
- 4) чарназёмы.

A20. У характарыстыцы сацыяльна-эканамічнага развіцця Бразіліі ПРАВІЛЬНЫМ з'яўляецца сцверджанне:

- 1) па форме праўлення з'яўляецца рэспублікай;
- 2) у структуры насельніцтва пераважае сельскае насельніцтва;
- 3) у структуры прамысловасці пераважаюць галіны лёгкай прамысловасці;
- 4) уваходзіць у тройку сусветных лідараў па валавых зборах пшаніцы.



A21. Характерным представителем природной зоны Пауночной Америки, адзначанай на карце колерам, з'яўляецца:

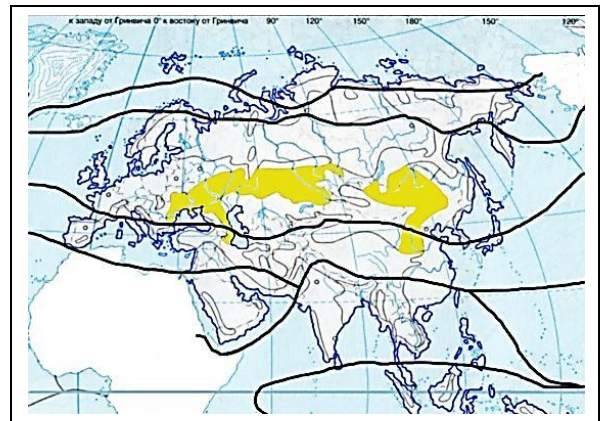


A22. Для Канады характерна(-ы):

- 1) унітарная форма палітыка-тэрытарыяльнага ўпарадкавання;
- 2) аднародны рэлігійны састаў насельніцтва;
- 3) вытворчасць большай часткі электраэнергіі на ЦЭС;
- 4) перавага жывёлагадоўлі ў структуры сельскай гаспадаркі.

A23. Для прыроднай зоны, выдзеленай на карце колерам, ПРАВІЛЬНАЙ з'яўляецца характарыстыка:

- 1) зімы суровыя, лета прахалоднае, ападкаў выпадае больш за 700 мм у год;
- 2) распаўсюджаны чарназёмныя і каштанавыя глебы;
- 3) пераважае драўнінная расліннасць;
- 4) жывуць буры мядзведзь, рысь, лісіца.



A24. У азіяцкай частцы Еўразіі размешчана(-ы):

- | | |
|----------------------|--------------------------|
| 1) Бодэнскае возера; | 3) горы Пірэнеі; |
| 2) Данецкі краж; | 4) Месапатамская нізіна. |

A25. У характарыстыцы сацыяльна-эканамічнага развіцця Германіі ПРАВІЛЬНЫМ з'яўляецца сцверджанне:

- 1) па форме палітыка-тэрытарыяльнага ўпарадкавання з'яўляецца ўнітарнай дзяржавай;
- 2) каэфіцыент натуральнага прыросту – дадатны;
- 3) у апрацоўчай прамысловасці вядучая роля належыць машынабудаванню;
- 4) асноўную частку сельскагаспадарчай прадукцыі выпрацоўвае раслінаводства.

A26. Для сацыяльна-эканамічнага развіцця Вялікабрытаніі ў АДРОЗНЕННЕ ад Францыі характэрна:

- 1) постындустрыяльная структура гаспадаркі;
- 2) перавага праваслаўных сярод веруючага насельніцтва;
- 3) вытворчасць асноўнай часткі электраэнергіі на ЦЭС;
- 4) перавозка грузаў і пасажыраў унутры краіны пераважна чыгуначным транспартам.

A27. У характарыстыцы сацыяльна-эканамічнага развіцця Японіі ПРАВІЛЬНЫМ з'яўляецца сцверджанне:

- 1) мужчыны лікава пераважаюць над жанчынамі;
- 2) насельніцтва раўнамерна размешчана па тэрыторыі краіны;
- 3) займае першае месца ў свеце па выплаўцы сталі;
- 4) сельская гаспадарка па долі занятых уступае сферы паслуг і прамысловасці.

A28. У характарыстыцы прыроды Расіі ПРАВІЛЬНЫМ з'яўляецца сцверджанне:

- 1) большая частка тэрыторыі размешчана ў межах складкаватых паясоў;
- 2) ва Уральскіх гарах карставыя працэсы не выяўлены;
- 3) у еўрапейскай частцы Расіі найменшая колькасць ападкаў выпадае на схілах Валдайскага ўзвышша;
- 4) большая частка тэрыторыі адносіцца да басейна Паўночнага Ледавітага акіяна.

A29. У характарыстыцы сацыяльна-эканамічнага развіцця Расіі ПАМЫЛКОВЫМ з'яўляецца сцверджанне:

- 1) самая распаўсюджаная рэлігія – хрысціянства;
- 2) найбольшая доля расіян жыве ў азіяцкай частцы краіны;
- 3) большую частку паліўна-энергетычнага балансу складае нафта і прыродны газ;
- 4) асноўныя пасевы пшаніцы сканцэнтраваны ў лесастэпавай і стэпавай зонах.

A30. Рака Прыпяць перасякае дзяржаўную мяжу Беларусі з:

- 1) Украінай;
- 2) Польшчай;
- 3) Расіяй;
- 4) Літвой.

A31. Радовішча бурага вугалю ў Беларусі:

- 1) Рэчыцкае;
- 2) Аколаўскае;
- 3) Старобінскае;
- 4) Жыткавіцкае.

A32. Найбольш высокая сярэднегадавая тэмпература паветра на тэрыторыі Беларусі характэрна для пункта, пазначанага на кліматычнай карце лічбай:

- 1) 1;
- 2) 2;
- 3) 3;
- 4) 4.

A33. На карце Мінскай вобласці адзначаны вадаём:

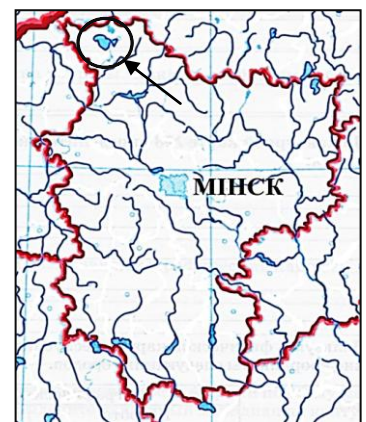
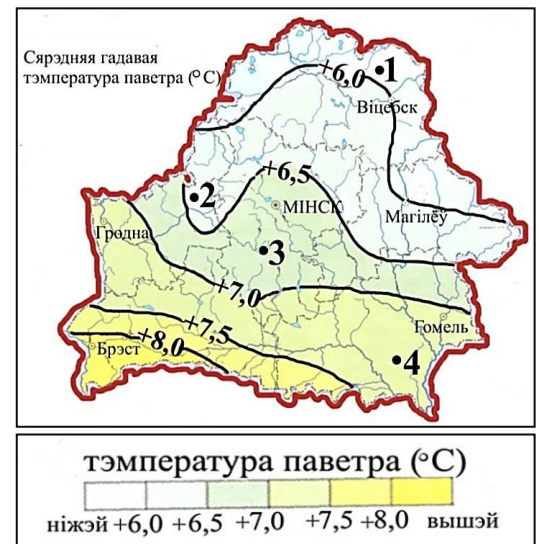
- 1) возера Доўгае;
- 2) возера Нарач;
- 3) возера Асвейскае;
- 4) Любанскае вадасховішча.

A34. На тэрыторыі Беларусі прадстаўніком стэпавай фаўны з'яўляецца:

- 1) глушэц;
- 2) хамяк звычайны;
- 3) чорны тхор;
- 4) белая курапатка.

A35. У характарыстыцы насельніцтва Беларусі ПРАВІЛЬНЫМ з'яўляецца сцверджанне:

- 1) ва ўзроставай структуры найбольшая доля насельніцтва ў працаздольным узросце;
- 2) працягласць жыцця мужчын большая, чым жанчын;
- 3) украінцы – другая па колькасці нацыянальнасць у краіне;
- 4) найбольшая сярэдняя шчыльнасць насельніцтва адзначаецца ў Віцебскай вобласці.



А36. Для прамысловасці Беларусі характэрна(-ы):

- 1) наяўнасць у краіне прыроднай сыравіннай базы для развіцця каляровай металургіі;
- 2) размяшчэнне буйнейшага ў краіне цэлюлозна-папяровага камбіната ў Брэсцкай вобласці;
- 3) сыравінны фактар размяшчэння прадпрыемстваў па вытворчасці нярудных будаўнічых матэрыялаў;
- 4) размяшчэнне цукровых заводаў у кожнай з абласцей.

А37. Для сельскай гаспадаркі Беларусі ПРАВІЛЬНЫМ з'яўляецца сцверджанне:

- 1) у структуры сельскагаспадарчых угоддзяў найбольшая доля належыць лугавым угоддзям;
- 2) сярод збожжавых культур найбольшую плошчу займаюць пасевы пшаніцы;
- 3) найбольшая канцэнтрацыя пасаваў ільну адзначаецца ў Гомельскай вобласці;
- 4) вакол буйных гарадоў гаспадаркі спецыялізуецца на вытворчасці малака.

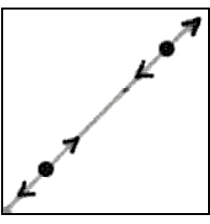


А38. Для транспарту Беларусі характэрна:

- 1) найбольшая ў параўнанні з суседнімі дзяржавамі гушчыня чыгунак;
- 2) перавага аўтамабільных дарог з цвёрдым пакрыццём у агульнай сетцы аўтамабільных дарог;
- 3) размяшчэнне самых буйных па грузаабароце рачных партоў на рацэ Заходняя Дзвіна;
- 4) найбольшая працягласць нафтаправодаў у агульнай сетцы магістральных трубаправодаў.

Частка В

Адказы, атрыманыя пры выкананні заданняў часткі В, запішыце ў бланку адказаў. Кожную літару, лічбу пішыце ў асобнай клетачцы (пачынаючы з першай) па ўзорах, указаных у бланку. Адказ у выглядзе слова, некалькіх слоў пішыце без прабелаў, злучка або іншых раздзяляльных знакаў.

В1. Устаноўце адпаведнасць паміж умоўным знакам і яго назвай:

Умоўны знак			
А) 	Б) 	В) 	Г) 
Назва ўмоўнага знака			
1) маладыя пасадкі лесу		4) хвойны лес	
2) двухкалейная чыгунка		5) фруктовы сад	
3) чаротавыя і трысняговыя зараснікі		6) лініі электраперадачы	

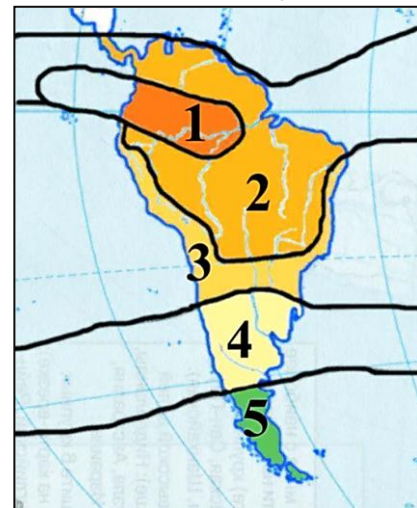
Адказ запішыце ў выглядзе спалучэння літар і лічбаў, захоўваючы алфавітную паслядоўнасць літар. Памятайце, што не ўсе назвы ўмоўных знакаў могуць быць выкарыстаны для адказу. Напрыклад: А2Б1В4Г5.

В2. Размясціце паслядоўна з захаду на ўсход (ад нулявога мерыдыяна) наступныя геаграфічныя аб'екты:

- 1) пустыня Калахары;
- 2) астравы Новая Зеландыя;
- 3) возера Ціцікака;
- 4) пласкагор'е Дэкан.

Адказ запішыце лічбамі, захоўваючы атрыманую паслядоўнасць. Напрыклад: 2143.

В3. Устанавіце адпаведнасць паміж характарыстыкай кліматычнага пояса Паўднёвай Амерыкі і яго месцазнаходжаннем, пазначаным на карце лічбай:



- А) для заходняга ўзбярэжжа характэрны клімат берагавых пустынь (гаруа);
 Б) адзначаецца сезоннасць у размеркаванні ападкаў, вільготнае лета і сухая зіма, высокія тэмпературы паветра на працягу года;
 В) на заходнім узбярэжжы фарміруецца марскі клімат з вільготным прахалодным летам і адносна цёплай зімой;
 Г) летам пануюць трапічныя, а зімой умераныя паветраныя масы.
Адказ запішыце ў выглядзе спалучэння літар і лічбаў, захоўваючы алфавітную паслядоўнасць літар. Памятайце, што не ўсе даныя, паказаныя на карце, могуць быць выкарыстаны для адказу. Напрыклад: А2Б1В4Г5.

В4. Фактычнае ўтрыманне вадзяной пары ў паветры, якое вымяраецца ў г/м³, гэта ... вільготнасць паветра.

Дапоўніце сказ і запішыце адказ у выглядзе слова ў той форме, у якой яно павінна быць выкарыстана ў сказе.

В5. Прачытайце прыведзены ніжэй тэкст, у якім прапушчаны рад слоў. Устаўце на месцы пропуску словы з прапанаванага спіска, якія падыходзяць па сэнсе.

Польшча размешчана паміж Германіяй на захадзе і чатырма ўсходнееўрапейскімі дзяржавамі на ўсходзе: Расіяй, (А) _____, Беларусью, Украінай. На тэрыторыі краіны размешчаны горы (Б) _____, якія адносяцца да вобласці маладой складкаватасці. Польшча выдзяляецца сярод краін Еўропы па здабычы (В) _____. Каля 50 % вытворчасці ўсёй прадукцыі жывёлагадоўлі забяспечвае (Г) _____

- Спісак слоў:**
- 1) Альпы
 - 2) Латвія
 - 3) Літва
 - 4) прыродны газ
 - 5) авечкагадоўля
 - 6) Карпаты
 - 7) свінагадоўля
 - 8) каменны вугаль

Выбірайце словы паслядоўна, мысленна устаўляючы іх на месцы пропуску ў патрэбнай форме. Памятайце, што не ўсе словы могуць быць выкарыстаны для адказу. Кожнае слова можа быць выкарыстана толькі адзін раз. Адказ запішыце ў выглядзе спалучэння літар і лічбаў, захоўваючы алфавітную паслядоўнасць літар. Напрыклад: А2Б1В4Г5.

В6. Устанавіце адпаведнасць:

Эканамічны і палітычны цэнтр	Дзяржава
А) Турын	1) Італія
Б) Бішкек	2) Канада
В) Таронта	3) Грузія
Г) Тбілісі	4) Узбекістан
	5) Кыргызстан

Адказ запішыце ў выглядзе спалучэння літар і лічбаў, захоўваючы алфавітную паслядоўнасць літар левага слупка. Памятайце, што не ўсе даныя правага слупка могуць быць пры гэтым выкарыстаны. Напрыклад: А2Б1В4Г5.

В7. Устанавіце адпаведнасць:

Характарыстыка дзяржавы	Дзяржава
А) найбольшая па плошчы тэрыторыі дзяржава на мацерыку, буйнейшы ў свеце вытворца калійных угнаенняў	1) ПАР
Б) размешчана на паўднёвай ускраіне мацерыка, доля дзяржавы ў ВУП кантынента складае 2/3	2) Кітай
В) уваходзіць у састаў інтэграцыйнага аб'яднання МЕРКАСУР, валодае найбольшым у свеце пагалоўем буйной рагатай жывёлы	3) ЗША
Г) дзяржава з найбольшым у свеце аб'ёмам вытворчасці легкавых аўтамабіляў, член БРІКС	4) Канада
	5) Бразілія

Адказ запішыце ў выглядзе спалучэння літар і лічбаў, захоўваючы алфавітную паслядоўнасць літар левага слупка. Памятайце, што не ўсе даныя правага слупка могуць быць пры гэтым выкарыстаны. Напрыклад: А2Б1В4Г5.

В8. Працяглы цёплы перыяд развіцця тэрыторыі ў чацвярцічным перыядзе паміж зледзяненнямі – гэта

Дапоўніце сказ і запішыце адказ у выглядзе слова ў той форме, у якой яно павінна быць выкарыстана ў сказе.

В9. Устанавіце адпаведнасць:

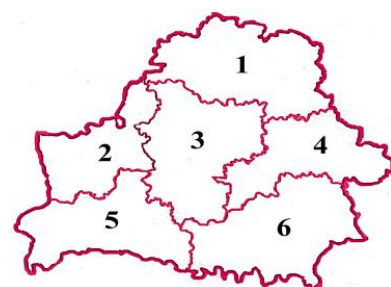
Характарыстыка фізіка-геаграфічнай правінцыі	Правінцыя
А) на Мазырскім радовішчы вядзецца здабыча каменнай солі	
Б) размешчаны ландшафтны заказнік «Ельня»	
В) размешчана Любанскае вадасховішча	
Г) размешчаны аб'ект Сусветнай культурнай спадчыны ЮНЕСКА – Мірскі замкава-паркавы комплекс	

Адказ запішыце ў выглядзе спалучэння літар і лічбаў, захоўваючы алфавітную паслядоўнасць літар левага слупка. Памятайце, што не ўсе правінцыі, паказаныя на карце, могуць быць выкарыстаны для адказу. Напрыклад: А2Б1В4Г5.

В10. Устанавіце адпаведнасць паміж назвай горада і адміністрацыйнай вобласцю Беларусі, у якой ён размешчаны:

А) Пінск; Б) Бабруйск; В) Навагрудак; Г) Наваполацк.

Адказ запішыце ў выглядзе спалучэння літар і лічбаў, захоўваючы алфавітную паслядоўнасць літар. Памятайце, што не ўсе даныя, паказаныя на карце, могуць быць выкарыстаны для адказу. Напрыклад: А2Б1В4Г5.

**В11. На тэрыторыі дзяржавы плошчай 181 тыс. км² пражывае 15 млн чалавек. Вызначце сярэдняю шчыльнасць насельніцтва краіны.**

Адказ акругліце да цэлага ліку і запішыце лічбамі. Адзінкі вымярэння не ўказвайце. Напрыклад: 21.

В12. На карце маштаба 1 : 50 000 000 адлегласць паміж двума пунктамі складае 4 см. Якой будзе гэтая ж адлегласць (у сантыметрах) на карце маштаба 1 : 20 000 000?

Адказ запішыце лічбамі ў выглядзе цэлага ліку. Адзінкі вымярэння не ўказвайце. Напрыклад: 17.