

ДРТ–2019 г.
География

Вариант содержит 50 заданий и состоит из части А (38 заданий) и части В (12 заданий). На выполнение всех заданий отводится 90 минут. Задания рекомендуется выполнять по порядку. Если какое-либо из них вызовет у Вас затруднение, перейдите к следующему. После выполнения всех заданий вернитесь к пропущенным. Будьте внимательны! Желаем успеха!

Часть А

В каждом задании части А только один из предложенных ответов является верным. В бланке ответов под номером задания поставьте метку (×) в клеточке, соответствующей номеру выбранного Вами ответа.

А1. Азимут на север равен:

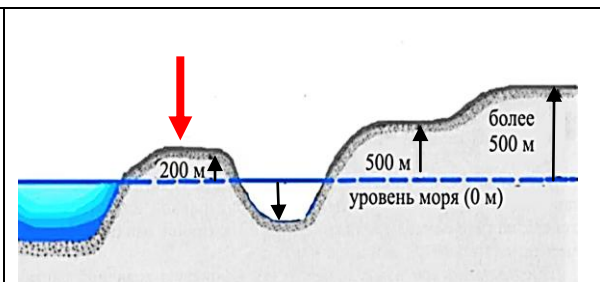
- 1) 0° (360°); 2) 90° ; 3) 180° ; 4) 270° .

А2. К мелкомасштабным относится карта масштаба:

- 1) 1 : 10 000 000; 2) 1 : 500 000; 3) 1 : 25 000; 4) 1 : 10 000.

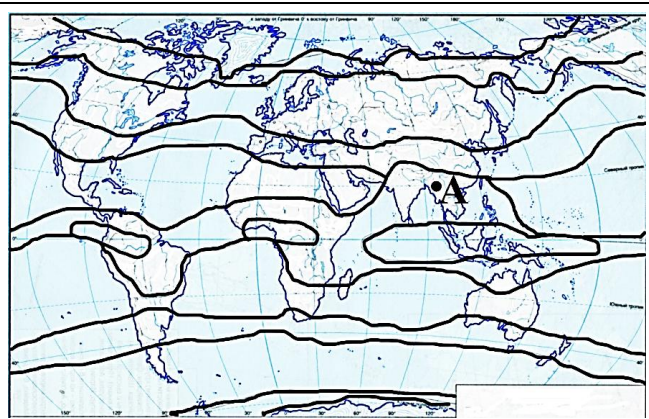
А3. Форма рельефа, указанная на рисунке стрелкой, – это:

- 1) впадина 3) возвышенность
2) низменность 4) плоскогорье



А4. Климатический пояс, в пределах которого на карте расположена точка с буквой:

- 1) экваториальный
2) тропический
3) субэкваториальный
4) субтропический



А5. Укажите широты, для которых характерна наиболее высокая соленость океанических вод:

- 1) экваториальные; 3) умеренные;
2) тропические; 4) полярные.

А6. Совокупность всех форм эксплуатации природно-ресурсного потенциала для удовлетворения материальных и культурных потребностей человека и мер по сохранению этого потенциала – это:

- 1) биота; 3) природопользование;
2) геополитика; 4) природное разнообразие.

A7. В тройку ведущих глобальных городов входит город:

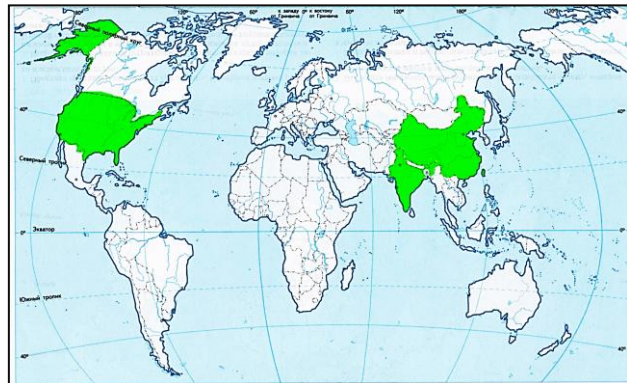
- 1) Каир;
- 2) Лондон;
- 3) Каракас;
- 4) Хельсинки.

A8. В состав интеграционного объединения НАФТА входит:

- 1) Бразилия;
- 2) Россия;
- 3) Аргентина;
- 4) Мексика.

A9. Общая черта, которая объединяет выделенные на карте государства:

- 1) унитарная форма политико-территориального устройства;
- 2) монархическая форма правления;
- 3) являются главными странами-производителями электроэнергии;
- 4) являются мировыми лидерами по поголовью свиней.



A10. В характеристике мирового хозяйства

ВЕРНЫМ является утверждение:

- 1) первичный сектор мирового хозяйства включает в себя образование и научные исследования;
- 2) природные условия и обеспечение стран природными ресурсами не влияют на географическое разделение труда;
- 3) наибольшее количество крупных транснациональных компаний размещено в США;
- 4) в современной отраслевой структуре международной торговли преобладает торговля услугами.

A11. В характеристике сельского хозяйства мира ВЕРНЫМ является утверждение:

- 1) на земли сельскохозяйственного назначения приходится большая часть мирового земельного фонда;
- 2) Африка выделяется среди регионов наибольшей долей в структуре валового сбора риса;
- 3) ведущим мировым производителем сельскохозяйственной продукции является Россия;
- 4) по поголовью овец среди стран лидирует Китай.

A12. В характеристике промышленности мира ВЕРНЫМ является утверждение:

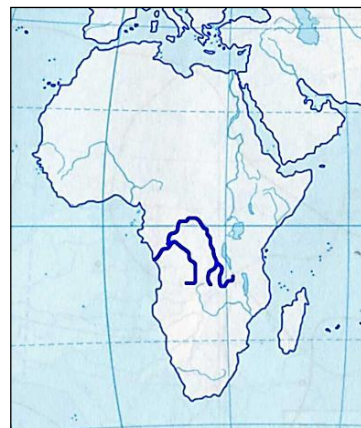
- 1) в региональной структуре добычи природного газа наибольшая доля принадлежит Африканскому региону;
- 2) размещение предприятий черной металлургии ориентируется исключительно на сочетание месторождений коксующегося угля и железной руды;
- 3) станкостроение характеризуется высокой концентрацией сложных производств в развитых странах;
- 4) в тройку ведущих производителей фармацевтической продукции входит Франция.

A13. В характеристике мировой сферы услуг ВЕРНЫМ является утверждение:

- 1) в структуре грузооборота ведущее место принадлежит железнодорожному транспорту;
- 2) самой протяженной системой автострад обладает Германия;
- 3) крупнейший по грузообороту морской порт – Шанхай;
- 4) по количеству туристских прибытий лидирует Американский регион.

A14. На карте Африки выделена река:

- 1) Нил;
- 2) Конго;
- 3) Нигер;
- 4) Замбези.

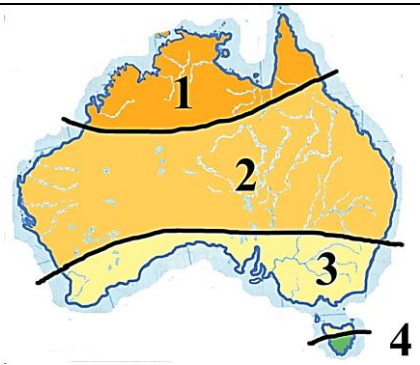
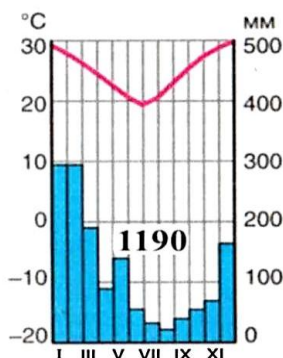


A15. В характеристике социально-экономического развития ЮАР ВЕРНЫМ является утверждение:

- 1) в структуре населения наибольшая доля выходцев из Европы;
- 2) столица является самым крупным городом страны;
- 3) отраслью специализации является металлургия;
- 4) главная зерновая культура – рис.

A16. Предложенная климатограмма соответствует климатическому поясу Австралии, отмеченному на карте цифрой:

- 1) 1;
- 2) 2;
- 3) 3;
- 4) 4.



A17. В характеристике социально-экономического развития Австралийского Союза ОШИБОЧНЫМ является утверждение:

- 1) средняя продолжительность жизни населения – одна из самых высоких в мире;
- 2) в структуре ВВП сельское хозяйство уступает промышленности и сфере услуг;
- 3) страна занимает первое место в мире по производству чугуна;
- 4) на орошаемых землях развито виноградарство, возделывается хлопчатник, табак.

A18. В характеристике природы Антарктиды ВЕРНЫМ является утверждение:

- 1) материк был открыт Ф. Магелланом;
- 2) Антарктическая платформа входила в состав древнего материка Лавразия;
- 3) стоковые ветры дуют от центра материка к периферии;
- 4) обитают пингвины, белые медведи, полярные волки.

A19. В природной зоне Южной Америки, выделенной на карте цветом, распространены почвы:






- 1) сероземы;
- 2) бурые лесные;
- 3) подзолистые;
- 4) черноземы.



A20. В характеристике социально-экономического развития Бразилии ВЕРНЫМ является утверждение:

- 1) по форме правления является республикой;
- 2) в структуре населения преобладает сельское население;
- 3) в структуре промышленности преобладают отрасли легкой промышленности;
- 4) входит в тройку мировых лидеров по валовым сборам пшеницы.

A21. Характерным представителем природной зоны Северной Америки, отмеченной на карте цветом, является:

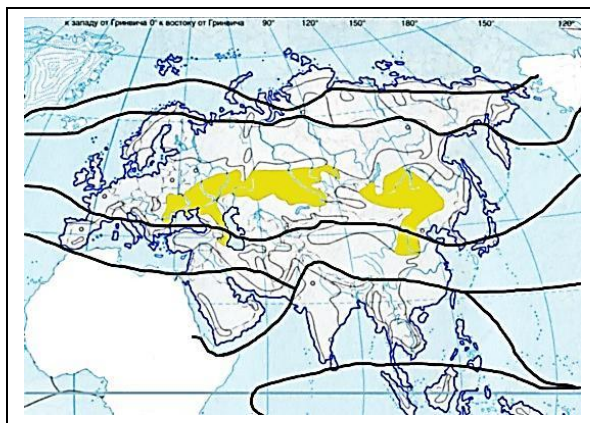
1) 	3) 	
2) 	4) 	

A22. Для Канады характерна(-ен; -о):

- 1) унитарная форма политико-территориального устройства;
- 2) однородный религиозный состав населения;
- 3) производство большей части электроэнергии на ТЭС;
- 4) преобладание животноводства в структуре сельского хозяйства.

A23. Для природной зоны, выделенной на карте цветом, ВЕРНОЙ является характеристика:

- 1) зимы суровые, лето прохладное, осадков выпадает более 700 мм в год;
- 2) распространены черноземные и каштановые почвы;
- 3) преобладает древесная растительность;
- 4) обитают бурый медведь, рысь, лисица.



A24. В азиатской части Евразии расположено(-ен; -ы; -а):

- | | |
|---------------------|-------------------------------|
| 1) Боденское озеро; | 3) горы Пиренеи; |
| 2) Донецкий кряж; | 4) Месопотамская низменность. |

A25. В характеристике социально-экономического развития Германии ВЕРНЫМ является утверждение:

- 1) по форме политико-территориального устройства является унитарным государством;
- 2) коэффициент естественного прироста – положительный;
- 3) в обрабатывающей промышленности ведущая роль принадлежит машиностроению;
- 4) основную часть сельскохозяйственной продукции производит растениеводство.

A26. Для социально-экономического развития Великобритании в ОТЛИЧИЕ от Франции характерна(-о):

- 1) постиндустриальная структура хозяйства;
- 2) преобладание православных среди верующего населения;
- 3) производство основной части электроэнергии на ТЭС;
- 4) перевозка грузов и пассажиров внутри страны преимущественно железнодорожным транспортом.

A27. В характеристике социально-экономического развития Японии ВЕРНЫМ является утверждение:

- 1) мужчины численно преобладают над женщинами;
- 2) население равномерно размещено по территории страны;
- 3) занимает первое место в мире по выплавке стали;
- 4) сельское хозяйство по доле занятых уступает сфере услуг и промышленности.

A28. В характеристике природы России ВЕРНЫМ является утверждение:

- 1) большая часть территории расположена в пределах складчатых поясов;
- 2) в Уральских горах карстовые процессы не выявлены;
- 3) в европейской части России наименьшее количество осадков выпадает на склонах Валдайской возвышенности;
- 4) большая часть территории относится к бассейну Северного Ледовитого океана.

A29. В характеристике социально-экономического развития России ОШИБОЧНЫМ является утверждение:

- 1) самая распространенная религия – христианство;
- 2) наибольшая доля россиян проживает в азиатской части страны;
- 3) большую часть топливно-энергетического баланса составляет нефть и природный газ;
- 4) основные посевы пшеницы сосредоточены в лесостепной и степной зонах.

A30. Река Припять пересекает государственную границу Беларуси с:

- 1) Украиной;
- 2) Польшей;
- 3) Россией;
- 4) Литвой.

A31. Месторождение бурого угля в Беларуси:

- 1) Речицкое;
- 2) Околовское;
- 3) Старобинское;
- 4) Житковичское.

A32. Наиболее высокая среднегодовая температура воздуха на территории Беларуси характерна для пункта, отмеченного на климатической карте цифрой:

- 1) 1;
- 2) 2;
- 3) 3;
- 4) 4.

A33. На карте Минской области отмечен водоем:

- 1) озеро Долгое;
- 2) озеро Нарочь;
- 3) озеро Освейское;
- 4) Любанское водохранилище.

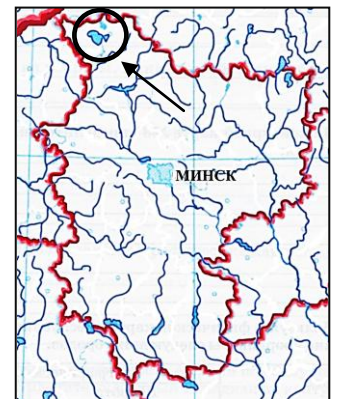


A34. На территории Беларуси представителем степной фауны является:

- 1) глухарь;
- 2) хомяк обыкновенный;
- 3) черный хорек;
- 4) белая куропатка.

A35. В характеристике населения Беларуси ВЕРНЫМ является утверждение:

- 1) в возрастной структуре наибольшая доля населения в трудоспособном возрасте;
- 2) продолжительность жизни мужчин больше, чем женщин;
- 3) украинцы – вторая по численности национальность в стране;
- 4) наибольшая средняя плотность населения отмечается в Витебской области.



А36. Для промышленности Беларуси характерно(-ен):

- 1) наличие в стране природной сырьевой базы для развития цветной металлургии;
- 2) размещение крупнейшего в стране целлюлозно-бумажного комбината в Брестской области;
- 3) сырьевой фактор размещения предприятий по производству нерудных строительных материалов;
- 4) размещение сахарных заводов в каждой из областей.

А37. Для сельского хозяйства Беларуси ВЕРНЫМ является утверждение:

- 1) в структуре сельскохозяйственных угодий наибольшая доля принадлежит луговым угодьям;
- 2) среди зерновых культур наибольшую площадь занимают посеы пшеницы;
- 3) наибольшая концентрация посевов льна отмечается в Гомельской области;
- 4) вокруг крупных городов хозяйства специализируются на производстве молока.


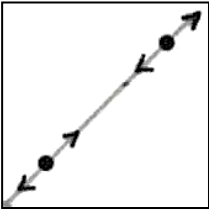

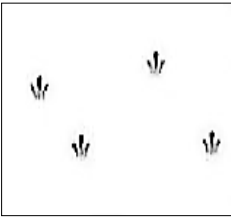
А38. Для транспорта Беларуси характерна(-о):

- 1) наибольшая по сравнению с соседними государствами густота железных дорог;
- 2) преобладание автомобильных дорог с твердым покрытием в общей сети автомобильных дорог;
- 3) расположение самых крупных по грузообороту речных портов на реке Западная Двина;
- 4) наибольшая протяженность нефтепроводов в общей сети магистральных трубопроводов.

Часть В

Ответы, полученные при выполнении заданий части В, запишите в бланке ответов. Каждую букву, цифру пишите в отдельной клеточке (начиная с первой) по образцам, указанным в бланке. Ответ в виде слова, нескольких слов пишите без пробелов, дефиса или других разделительных знаков.

В1. Установите соответствие между условным знаком и его названием:

Условный знак			
А) 	Б) 	В) 	Г) 
Название условного знака			
1) молодые посадки леса	2) двухпутная железная дорога	3) камышовые и тростниковые заросли	4) хвойный лес
			5) фруктовый сад
			6) линии электропередачи

Ответ запишите в виде сочетания букв и цифр, соблюдая алфавитную последовательность букв. Помните, что не все названия условных знаков могут быть использованы для ответа. Например: А2Б1В4Г5.

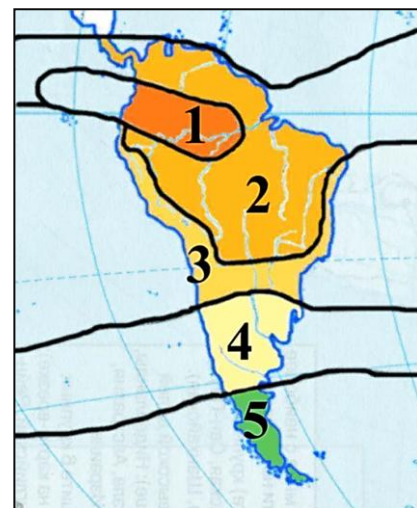
В2. Расположите последовательно с запада на восток (от нулевого меридиана) следующие географические объекты:

- 1) пустыня Калахари;
- 2) острова Новая Зеландия;
- 3) озеро Титикака;
- 4) плоскогорье Декан.

Ответ запишите цифрами, соблюдая полученную последовательность. Например: 2143.

В3. Установите соответствие между характеристикой климатического пояса Южной Америки и его местоположением, отмеченным на карте цифрой:

- А) для западного побережья характерен климат береговых пустынь (гаруа);
 Б) отмечается сезонность в распределении осадков, влажное лето и сухая зима, высокие температуры воздуха в течение года;
 В) на западном побережье формируется морской климат с влажным прохладным летом и относительно теплой зимой;
 Г) летом господствуют тропические, а зимой умеренные воздушные массы.



Ответ запишите в виде сочетания букв и цифр, соблюдая алфавитную последовательность букв. Помните, что не все данные, указанные на карте, могут быть использованы для ответа. Например: А2Б1В4Г5.

В4. Фактическое содержание водяного пара в воздухе, измеряемое в г/м³, это ... влажность воздуха.

Дополните предложение и запишите ответ в виде слова в той форме, в которой оно должно быть употреблено в предложении.

В5. Прочитайте приведенный ниже текст, в котором пропущен ряд слов. Вставьте на месте пропусков слова из предложенного списка, подходящие по смыслу.

Польша расположена между Германией на западе и четырьмя восточноевропейскими государствами на востоке: Россией, (А) _____, Беларусью, Украиной. На территории страны расположены горы (Б) _____, относящиеся к области молодой складчатости. Польша выделяется среди стран Европы по добыче (В) _____. Около 50 % производства всей продукции животноводства обеспечивает (Г) _____

Список слов:

- 1) Альпы
- 2) Латвия
- 3) Литва
- 4) природный газ
- 5) овцеводство
- 6) Карпаты
- 7) свиноводство
- 8) каменный уголь

Выбирайте слова последовательно, мысленно вставляя их на месте пропусков в нужной форме. Помните, что не все слова могут быть использованы для ответа. Каждое слово может быть использовано только один раз. Ответ запишите в виде сочетания букв и цифр, соблюдая алфавитную последовательность букв. Например: А2Б1В4Г5.

В6. Установите соответствие:

Экономический и политический центр	Государство
А) Турин	1) Италия
Б) Бишкек	2) Канада
В) Торонто	3) Грузия
Г) Тбилиси	4) Узбекистан
	5) Кыргызстан

Ответ запишите в виде сочетания букв и цифр, соблюдая алфавитную последовательность букв левого столбца. Помните, что не все данные правого столбца могут быть при этом использованы. Например: А2Б1В4Г5.

В7. Установите соответствие:


Характеристика государства	Государство
А) наибольшее по площади территории государство на материке, крупнейший в мире производитель калийных удобрений Б) расположено на южной окраине материка, доля государства в ВВП континента составляет 2/3 В) входит в состав интеграционного объединения МЕРКОСУР, обладает наибольшим в мире поголовьем крупного рогатого скота Г) государство с наибольшим в мире объемом производства легковых автомобилей, член БРИКС	1) ЮАР 2) Китай 3) США 4) Канада 5) Бразилия

Ответ запишите в виде сочетания букв и цифр, соблюдая алфавитную последовательность букв левого столбца. Помните, что не все данные правого столбца могут быть при этом использованы. Например: А2Б1В4Г5.

В8. Продолжительный теплый период развития территории в четвертичном периоде между оледенениями – это

Дополните предложение и запишите ответ в виде слова в той форме, в которой оно должно быть употреблено в предложении.

В9. Установите соответствие:

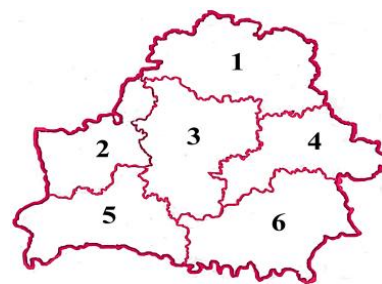
Характеристика физико-географической провинции	Провинция
А) на Мозырском месторождении ведется добыча каменной соли Б) расположен ландшафтный заказник «Ельня» В) расположено Любанское водохранилище Г) расположен объект Всемирного культурного наследия ЮНЕСКО – Мирский замково-парковый комплекс	

Ответ запишите в виде сочетания букв и цифр, соблюдая алфавитную последовательность букв левого столбца. Помните, что не все провинции, указанные на карте, могут быть использованы для ответа. Например: А2Б1В4Г5.

В10. Установите соответствие между названием города и административной областью Беларуси, в которой он расположен:

А) Пинск; Б) Бобруйск; В) Новогрудок; Г) Новополоцк.

Ответ запишите в виде сочетания букв и цифр, соблюдая алфавитную последовательность букв. Помните, что не все данные, указанные на карте, могут быть использованы для ответа. Например: А2Б1В4Г5.

**В11. На территории государства площадью 181 тыс. км² проживает 15 млн человек. Определите среднюю плотность населения страны.**

Ответ округлите до целого числа и запишите цифрами. Единицы измерения не указывайте. Например: 21.

В12. На карте масштаба 1 : 50 000 000 расстояние между двумя пунктами составляет 4 см. Каким будет это же расстояние (в сантиметрах) на карте масштаба 1 : 20 000 000?

Ответ запишите цифрами в виде целого числа. Единицы измерения не указывайте. Например: 17.