

ДРТ–2018 г.
Геаграфія

Варыянт змяшчае 50 заданняў і складаецца з часткі А (38 заданняў) і часткі В (12 заданняў). На выкананне ўсіх заданняў адводзіцца 90 мінут. Заданні рэкамендуецца выконваць па парадку. Калі якое-небудзь з іх выкліча ў Вас цяжкасць, перайдзіце да наступнага. Пасля выканання ўсіх заданняў вярніцеся да прапушчаных. Будзьце ўважлівыя! Жадаем поспеху!

Частка А

У кожным заданні часткі А **толькі адзін** з прапанаваных адказаў з'яўляецца правільным. У бланку адказаў пад нумарам задання пастаўце метку (×) у клетачцы, якая адпавядае нумару выбранага Вамі адказу.

A1. Геаграфічныя каардынаты кропкі А на карце:

- 1) 20° пн. ш., 10° з. д.; 3) 20° пн. ш., 10° у. д.;
2) 20° пд. ш., 10° у. д.; 4) 10° пн. ш., 20° у. д.

A2. Лікавы маштаб карты 1 : 22 000 000 адпавядае найменнаму маштабу:

- 1) у 1 см – 220 м; 3) у 1 см – 22 000 км;
2) у 1 см – 22 000 м; 4) у 1 см – 220 км.

A3. Форма рэльефу акіянічнага дна, якая размяшчаецца на глыбінях ад 4000 да 6000 м і займае большую частку Сусветнага акіяна, – гэта:

- 1) мацерыковая водмель (шэльф);
2) мацерыковы схіл;
3) ложа акіяна;
4) глыбакаводны жолаб.

A4. Субтрапічны кліматычны пояс пры руху ад экватара да полюсаў змяняецца кліматычным поясам:

- 1) трапічным; 3) субэкватарыяльным;
2) умераным; 4) экватарыяльным.

A5. На карце кропка размешчана ў межах акваторыі:

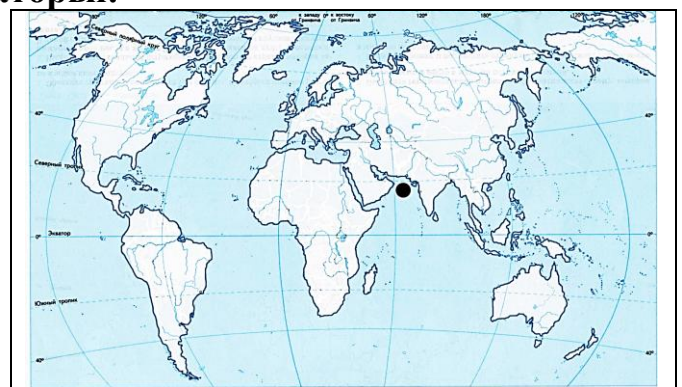
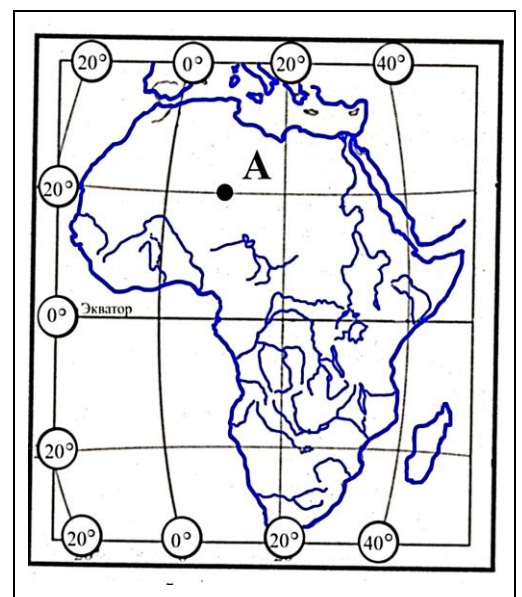
- 1) Чырвонага мора;
2) Берынгава мора;
3) Аравійскага мора;
4) Біскайскага заліва.

A6. З пералічаных геаграфічных тэрмінаў да біясферы адносіцца:

- 1) горст; 3) мусон;
2) гілея; 4) вадзі.

A7. У групу краін, якія развіваюцца, уваходзіць:

- 1) Японія; 2) Мексіка; 3) Італія; 4) Вялікабрытанія.



A8. На карце колерам выдзелена дзяржава, сталіцай якой з'яўляецца горад:

- 1) Кіеў;
- 2) Баку;
- 3) Астана;
- 4) Душанбе.

A9. У састаў інтэграцыйнага аб'яднання МЕРКАСУР уваходзіць:

- 1) Канада;
- 2) Кітай;
- 3) ЗША;
- 4) Аргенціна.

A10. У характарыстыцы сусветнай гаспадаркі ПРАВІЛЬНЫМ з'яўляецца сцверджанне:

- 1) у прасторавай структуры сусветнай гаспадаркі да краін Поўдня адносяцца развітыя краіны;
- 2) Еўропа выдзяляецца сярод рэгіёнаў свету найбольшай колькасцю буйных ТНК;
- 3) стварэнне Мытнага саюза – заключная стадыя эканамічнай інтэграцыі;
- 4) у геаграфічнай структуры міжнароднага гандлю найбольшая доля прыходзіцца на развітыя краіны.

A11. У характарыстыцы сельскай гаспадаркі свету ПРАВІЛЬНЫМ з'яўляецца сцверджанне:

- 1) у структуры зямель сельскагаспадарчага прызначэння найбольшую долю складае ралля;
- 2) у рэгіянальнай структуры валавога збору кукурузы найбольшая доля належыць Афрыцы;
- 3) Бразілія ўваходзіць у тройку сусветных лідараў па валавых зборах рысу;
- 4) больш паловы пагалоўя свіней сканцэнтравана ў Азіі.

A12. У характарыстыцы хімічнай прамысловасці свету ПРАВІЛЬНЫМ з'яўляецца сцверджанне:

- 1) у структуры апрацоўчай прамысловасці найменшая доля належыць хімічнай прамысловасці;
- 2) у агульным аб'ёме вытворчасці мінеральных угнаенняў пераважаюць калійныя ўгнаенні;
- 3) у структуры вытворчасці ўсіх відаў валокнаў найбольшая доля прыходзіцца на хімічныя валокны;
- 4) Польшча ўваходзіць у тройку вядучых краін-вытворцаў фармацэўтычнай прадукцыі.

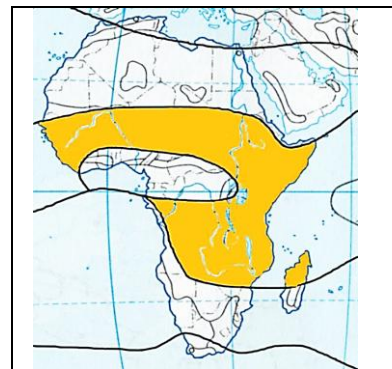
A13. У характарыстыцы сусветнай сферы паслуг ПРАВІЛЬНЫМ з'яўляецца сцверджанне:

- 1) сфера паслуг адносіцца да першаснага сектара сусветнай гаспадаркі;
- 2) у структуры грузаабароту вядучае месца належыць аўтамабільнаму транспарту;
- 3) большая частка самалётнага парка свету выраблена на заводах карпарацый «Боінг» і «Эрбас»;
- 4) Індыя – сусветны лідар па колькасці турысцкіх прыбыццяў.



A14. Для кліматычнага пояса Афрыкі, выдзеленага на карце колерам, ПРАЎІЛЬНАЙ з'яўляецца характарыстыка:

- 1) на працягу года пануюць трапічныя паветраныя масы;
- 2) клімат пояса летам фарміруецца пад уплывам вільготных экватарыяльных паветраных мас;
- 3) ападкі раўнамерна размяркоўваюцца на працягу года;
- 4) на заходнім узбярэжжы пояса фарміруецца клімат берагавых пустынь (гаруа).



A15. Для сацыяльна-эканамічнага развіцця ПАР у АДРОЗНЕННЕ ад Егіпта характэрна:

- 1) перавага бербераў у структуры насельніцтва;
- 2) занятасць у сферы паслуг найменшай долі працаздольнага насельніцтва краіны;
- 3) выкарыстанне ў энергетыцы пераважна ўласных рэсурсаў нафты і прыроднага газу;
- 4) вядучая роля жывёлагадоўлі ў структуры сельскай гаспадаркі.

A16. У характарыстыцы прыроды Аўстраліі ПРАЎІЛЬНЫМ з'яўляецца сцверджанне:

- 1) самая нізкая кропка мацерыка мае абсалютную вышыню 100 м над узроўнем мора;
- 2) паўднёвае ўзбярэжжа мацерыка размешчана ва ўмераным кліматычным поясе;
- 3) самая паўнаводная рака адносіцца да басейна Індыйскага акіяна;
- 4) пераменна-вільготныя (мусонныя) лясы распаўсюджаны на паўднёвым захадзе кантынента.






A17. У характарыстыцы сацыяльна-эканамічнага развіцця Аўстралійскага Саюза ПРАЎІЛЬНЫМ з'яўляецца сцверджанне:

- 1) у структуры насельніцтва найбольшая доля належыць карэннаму насельніцтву;
- 2) краіна з'яўляецца сусветным лідарам па здабычы баксітаў;
- 3) забяспечанасць раллэй на душу насельніцтва адна з самых нізкіх у свеце;
- 4) галоўнымі гандлёвымі партнёрамі з'яўляюцца краіны, якія развіваюцца.

A18. У характарыстыцы прыроды Антарктыды ПРАЎІЛЬНЫМ з'яўляецца сцверджанне:

- 1) мацярык абмываецца ўсімі акіянамі;
- 2) горы Заходняй Антарктыды з'яўляюцца часткай Ціхаакіянскага «вогненнага кольца»;
- 3) над цэнтрам мацерыка фарміруецца вобласць пастаяннага нізкага атмасфернага ціску;
- 4) сярод жывёл на мацерыку пераважаюць драпежныя млекакормячыя.

A19. Характэрным прадстаўніком прыроднай зоны Паўднёвай Амерыкі, адзначанай на карце колерам, з'яўляецца:

1) 	3) 	<p>Природная зона</p> 
2) 	4) 	

A20. Для сацыяльна-эканамічнага развіцця Венесуэлы ў АДРОЗНЕННЕ ад Аргенціны характэрна:

- 1) выкарыстанне партугальскай мовы ў якасці дзяржаўнай;
- 2) перавага сельскага насельніцтва ў структуры насельніцтва;
- 3) наяўнасць буйных запасаў нафты;
- 4) уваходжанне ў тройку сусветных лідараў па пагалоўі свіней.

A21. У характарыстыцы прыроды Паўночнай Амерыкі ПРАВІЛЬНЫМ з'яўляецца сцверджанне:

- 1) паўвостраў Лабрадор размешчаны на Ціхаакіянскім узбярэжжы мацерыка;
- 2) крышталічная аснова старажытнай платформы выходзіць на паверхню ў паўднёвай яе частцы;
- 3) зарэгістраваны абсалютны мінімум тэмпературы паветра для Паўночнага паўшар'я;
- 4) некаторыя прыродныя зоны маюць мерыдыянальнае распасціранне.

A22. Для сацыяльна-эканамічнага развіцця ЗША ў АДРОЗНЕННЕ ад Канады характэрна(-ы):

- 1) нераўнамернае размяшчэнне насельніцтва па тэрыторыі;
- 2) постындустрыяльны тып эканомікі;
- 3) вытворчасць большай часткі электраэнергіі на ЦЭС;
- 4) вядучая роля чыгуначнага транспарту ў перавозках грузаў унутры краіны.

A23. ПРАВІЛЬНЫМ у характарыстыцы прыроды Еўразіі з'яўляецца сцверджанне:

- 1) горы Цянь-Шань размешчаны ў межах маладога складкаватага пояса;
- 2) полюс холаду Паўночнага паўшар'я размешчаны ў арктычным кліматычным поясе;
- 3) рака Волга адносіцца да басейна ўнутранага сцёку;
- 4) на міжземнаморскім узбярэжжы паўастравой Паўднёвай Еўропы распаўсюджана прыродная зона змешаных і шыракалістых лясоў.

A24. У еўрапейскай частцы Еўразіі размешчаны(-а):

- 1) горы Карпаты;
- 2) вулкан Ключаўская Сопка;
- 3) пласкагор'е Дэкан;
- 4) Месапатамская нізіна.

A25. Для сацыяльна-эканамічнага развіцця Вялікабрытаніі і Францыі АГУЛЬНЫМ з'яўляецца:

- 1) перавага католікаў сярод веруючага насельніцтва;
- 2) высокая працягласць жыцця і доля людзей пажылога ўзросту;
- 3) развіццё энергетыкі выключна на базе ўласных рэсурсаў нафты і вугалю;
- 4) дамінуючая роля раслінаводства ў структуры сельскай гаспадаркі.

A26. У характарыстыцы сацыяльна-эканамічнага развіцця дзяржаў Балты ПРАВІЛЬНЫМ з'яўляецца сцверджанне:

- 1) насельніцтва раўнамерна размешчана па тэрыторыі дзяржаў;
- 2) найбольшая частка працаздольнага насельніцтва занята ў прамысловасці;
- 3) у структуры энергетыкі Латвіі адсутнічае гідраэнергетыка;
- 4) жывёлагадоўля ў рэгіёне спецыялізуецца на развядзенні буйной рагатай жывёлы і свінагадоўлі.

A27. У характарыстыцы Японіі ПРАВІЛЬНЫМ з'яўляецца сцверджанне:

- 1) большая частка насельніцтва занята ў сельскай гаспадарцы;
- 2) краіна ўваходзіць у тройку сусветных лідараў па выплаўцы сталі;
- 3) у апрацоўчай прамысловасці павялічваецца доля матэрыялаёмістых вытворчасцей;
- 4) поўная патрэба краіны ў рыбе і малюсках забяспечваецца за кошт аквакультуры.

A28. У характарыстыцы прыроды Расіі ПРАВІЛЬНЫМ з'яўляецца сцверджанне:

- 1) Сібірская платформа адносіцца да ліку маладых;
- 2) Уральскія горы размешчаны ў межах маладога складкаватага пояса;
- 3) найбольшая колькасць ападкаў выпадае на Заходне-Сібірскай нізіне;
- 4) большую частку тэрыторыі краіны пакрываюць лясы.

A29. Для сацыяльна-эканамічнага развіцця Расіі характэрна:

- 1) перавага колькасці мужчын у структуры насельніцтва;
- 2) найбольшая доля нафты і газу ў паліўна-энергетычным балансе краіны;
- 3) поўная залежнасць алюмініевай прамысловасці ад імпарту сыравіны;
- 4) вырошчванне цукровых буракоў пераважна на поўначы еўрапейскай часткі краіны.

A30. Найбольшую працягласць (з указаных краін) мае ўчастак дзяржаўнай мяжы Беларусі з:

- 1) Расіяй;
- 2) Літвой;
- 3) Польшчай;
- 4) Латвіяй.

A31. ПРАВІЛЬНАЙ адносна Беларусі з'яўляецца наступная характарыстыка:

- 1) для адмоўных тэктанічных структур характэрна блізкае да паверхні заляганне крышталічнага фундаменту;
- 2) радовішчы калійнай солі прымеркаваны да платформавага чахла;
- 3) фарміраванне ўзвышшаў у паўднёвай частцы краіны звязана з дзейнасцю паазерскага ледавіка;
- 4) у рэльефе пераважаюць узвышшы.

A32. Для клімату Беларусі характэрна:

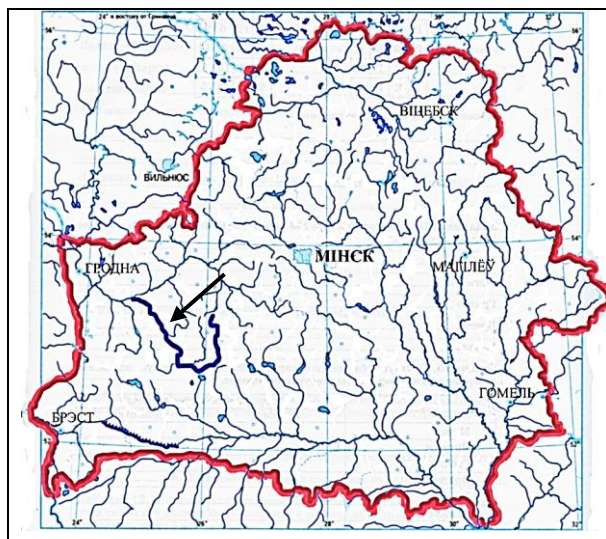
- 1) перавага рассеянай сонечнай радыяцыі зімой і восенню;
- 2) уздзеянне атлантычных паветраных мас толькі ў цёплы перыяд года;
- 3) блізкі да мерыдыянальнага ход ізатэрм ліпеня;
- 4) выпадзенне максімальнай гадавой колькасці ападкаў на Аршанска-Магілёўскай раўніне.

A33. На карце выдзелена рака:

- 1) Бярэзіна;
- 2) Заходні Буг;
- 3) Шчара;
- 4) Ясельда.

A34. У характарыстыцы расліннага свету Беларусі ПРАВІЛЬНЫМ з'яўляецца сцверджанне:

- 1) на большай частцы лесапакрытай плошчы расце елка;
- 2) лугавая расліннасць займае найбольшую плошчу сярод асноўных тыпаў расліннасці;
- 3) поймавыя лугі найбольш шырока прадстаўлены на Палессі;
- 4) верхавыя балоты маюць пераважна глебава-грунтавы тып жыўлення.



A35. У характарыстыцы насельніцтва Беларусі ПРАВІЛЬНЫМ з'яўляецца сцверджанне:

- 1) палякі – другая па колькасці этнічная група насельніцтва;
- 2) для ўзроставай структуры насельніцтва характэрна павелічэнне ўдзельнай вагі пажылых і састарэлых людзей;
- 3) колькасць сельскага насельніцтва перавышае колькасць гарадскога;
- 4) найбольшая сярэдняя шчыльнасць насельніцтва адзначаецца ў Віцебскай вобласці.

А36. Для прамысловасці Беларусі характэрна:

- 1) вытворчасць асноўнай часткі электраэнергіі на ГЭС;
- 2) развіццё чорнай металургіі выключна на аснове перапрацоўкі ўласнага металалому;
- 3) залежнасць вытворчасці фосфарных угнаенняў ад імпарту сыравіны;
- 4) наяўнасць цукровых заводаў ва ўсіх абласцях краіны.

А37. Для сельскай гаспадаркі Беларусі характэрна:

- 1) найбольшая доля ворыва ў структуры сельскагаспадарчых угоддзяў краіны;
- 2) найбольшая канцэнтрацыя пасеваў ільну-даўгунцу ў Брэсцкай вобласці;
- 3) найбольшая ўдзельная вага мяса птушкі ў структуры вытворчасці мяса;
- 4) спецыялізацыя жывёлагадоўчых гаспадарак вакол буйных гарадоў на вытворчасці мяса.

А38. У характарыстыцы транспарту Беларусі ПРАВІЛЬНЫМ з'яўляецца сцверджанне:

- 1) найбольшая колькасць напрамкаў чыгунак праходзіць праз Гомель;
- 2) сярод абласцей найбольш густой сеткай аўтамабільных дарог з цвёрдым пакрыццём выдзяляецца Гродзенская вобласць;
- 3) у агульнай сетцы магістральных трубаправодаў найбольшая частка прыходзіцца на нафтаправоды;
- 4) самы буйны па грузаабароце сярод рачных партоў – Брэсцкі рачны порт.

Частка В

Адказы, атрыманыя пры выкананні заданняў часткі В, запішыце ў бланку адказаў. Кожную літару, лічбу пішыце ў асобнай клетачцы (пачынаючы з першай) па ўзорах, указаных у бланку. Адказ у выглядзе слова, некалькіх слоў пішыце без прабелаў, злучка або іншых раздзяляльных знакаў.

В1. Назавіце горы, пазначаныя на карце лініямі:

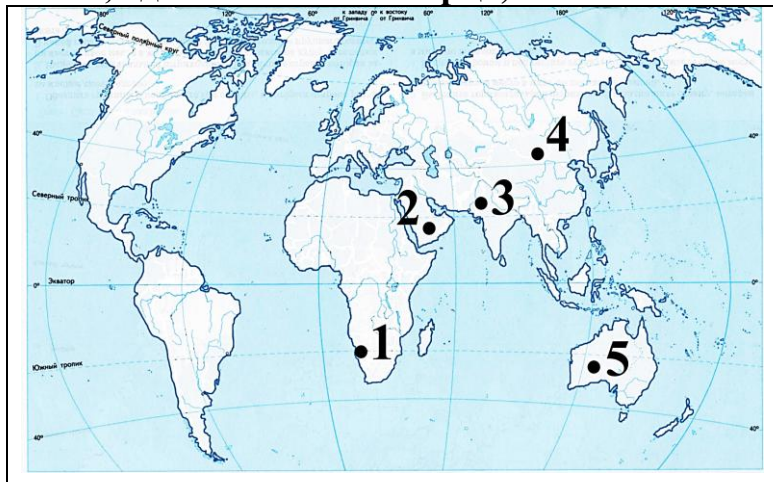
У бланк адказаў запішыце назву гор. Напрыклад: Гімалаі



В2. Устаноўце адпаведнасць паміж пустынямі, адзначанымі на карце, і іх назвамі:

- А) Гобі;
- Б) Наміб;
- В) Руб-эль-Халі;
- Г) Вялікая пустыня Вікторыя.

Адказ запішыце ў выглядзе спалучэння літар і лічбаў, захоўваючы алфавітную паслядоўнасць літар. Памятайце, што не ўсе даныя, адзначаныя на карце, могуць быць выкарыстаны для адказу. Напрыклад: А2Б1В4Г5.



В3. Устанавіце адпаведнасць паміж характарыстыкамі кліматычных паясоў Аўстраліі і іх месцазнаходжаннем, адзначаным на карце лічбамі:

А) прахалоднае лета і ўмерана-цёплая зіма, моцныя ападкаі; клімат фарміруецца пад уплывам аднаго тыпу паветраных мас на працягу года;

Б) клімат усходняй вобласці вільготны (1000–1500 мм ападкаў у год), фарміруецца пад уплывам паўднёва-ўсходняга пасата;

В) у заходняй частцы пояса выдзяляецца вобласць міжземнаморскага клімату;

Г) характэрна змена паветраных мас па сезонах, зімой пануюць трапічныя паветраныя масы.



Адказ запішыце ў выглядзе спалучэння літар і лічбаў, захоўваючы алфавітную паслядоўнасць літар. Напрыклад: А2Б1В4Г3.

В4. Сукупнасць прадстаўнікоў расліннага і жывёльнага свету, прыродных комплексаў, якія сфарміраваліся ў працэсе развіцця жыцця на Зямлі, – гэта прыродная

Дапоўніце сказ і запішыце адказ у выглядзе слова.

В5. Буйнейшая па плошчы тэрыторыі дзяржава на кантыненте, якая абмываецца водамі трох акіянаў і мае сухапутную граніцу толькі з адной дзяржавай. Тэрыторыя багатая запасамі мінеральнай сыравіны. Па аб'ёмах вытворчасці рафінаванага цынку краіна ўваходзіць у тройку сусветных лідараў. Сталіца дадзенай дзяржавы –

У бланк адказаў запішыце сталіцу дзяржавы. Напрыклад: Мінск.

В6. Устанавіце адпаведнасць:

Востраў (астравы)	Дзяржава
А) Сардзінія Б) Сахалін В) Алеуцкія Г) Корсіка	1) Францыя 2) Італія 3) Расія 4) ЗША 5) Кітай

Адказ запішыце ў выглядзе спалучэння літар і лічбаў, захоўваючы алфавітную паслядоўнасць літар левага слупка. Памятайце, што не ўсе даныя правага слупка могуць быць выкарыстаны для адказу. Напрыклад: А2Б1В4Г5.

В7. Устанавіце адпаведнасць:

Характарыстыка дзяржавы	Дзяржава
А) уваходзіць у тройку сусветных лідараў па вытворчасці электраэнергіі Б) на тэрыторыі дзяржавы размешчана буйное радовішча жалезнай руды Каражас В) уваходзіць у тройку сусветных лідараў па вытворчасці марскіх суднаў Г) уваходзіць у тройку сусветных лідараў па пагалоўі авечак	

Адказ запішыце ў выглядзе спалучэння літар і лічбаў, захоўваючы алфавітную паслядоўнасць літар. Памятайце, што не ўсе даныя, пазначаныя на карце, могуць быць выкарыстаны для адказу. Напрыклад: А2Б1В4Г5.

В8. Пазапоймавыя лугі Беларусі займаюць каля 95 % ад агульнай плошчы лугоў і прыкладна пароўну падзяляюцца на ... і нізінныя.

Дароўніце сказ і запішыце адказ у выглядзе слова.

В9. Устанавіце адпаведнасць:

Геаграфічны аб'ект	Фізіка-геаграфічная правінцыя
А) Асвейскае возера Б) Любанскае вадасховішча В) Навагрудскае ўзвышша Г) Мікашэвіцкае радовішча будаўнічага каменю	

Адказ запішыце ў выглядзе спалучэння літар і лічбаў, захоўваючы алфавітную паслядоўнасць літар левага слупка. Памятайце, што не ўсе даныя правага слупка могуць быць выкарыстаны для адказу. Напрыклад: А2Б1В4Г5.

В10. Прачытайце прыведзены ніжэй тэкст, у якім прапушчаны рад слоў. Выберыце з прапанаванага спіска словы, якія неабходна ўставіць на месцы пропускаў.

Характарыстыка вобласці	Спісак слоў
Гомельская вобласць мяжуе з Брэсцкай, Мінскай і _____ (А) абласцямі Беларусі. У вобласці сканцэнтраваны ўвесь аб'ём вытворчасці _____ (Б) угнаенняў. У горадзе _____ (В), размешчаным на рацэ Днепр, працуе металургічны завод. У маладым горадзе _____ (Г) – на рацэ Бярэзіне, размешчаны цэлюлозна-папяровы камбінат	1) Рэчыца 2) Жлобін 3) Магілёўская 4) азотныя 5) Мазыр 6) Віцебская 7) фосфарныя 8) Светлагорск

Выбірайце словы паслядоўна, мысленна ўстаўляючы іх на месцы пропускаў у патрэбнай форме. Памятайце, што не ўсе словы могуць быць выкарыстаны для адказу. Кожнае слова можа быць выкарыстана толькі адзін раз. Адказ запішыце ў выглядзе спалучэння літар і лічбаў, захоўваючы алфавітную паслядоўнасць літар. Напрыклад: А2Б1В4Г5.

В11. Па даных сярэднямесячных тэмператур вылічыце гадавую амплітуду тэмпературы паветра.

Месяц	I	II	III	IV	V	VI	VII	VIII	IX	X	XI	XII
t, °C	-33	-30	-28	-9	-2	+11	+17	+9	+1	+4	-9	-25

Адказ запішыце лічбамі ў выглядзе цэлага ліку. Адзінкі вымярэння не ўказвайце. Напрыклад: 17.

В12. У падножжа гары, размешчанага на ўзроўні мора, тэмпература паветра роўная +5,6 °C, а на яе вяршыні яна складае -1 °C. Вызначце адносную вышыню вяршыні гары (у метрах).

Адказ запішыце лічбамі ў выглядзе цэлага ліку, адзінкі вымярэння не ўказвайце. Напрыклад: 2000.